



Wie viel Uhr ist es?


Verbinde die passenden Uhren und Uhrzeiten.




Es ist zwölf Uhr.




Es ist drei Uhr.




Es ist zehn Uhr.



Es ist zwei Uhr.





Es ist neun Uhr.



Es ist sieben Uhr.

Wie viel Uhr ist es?

Verbinde die passenden Uhren und Uhrzeiten.



Es ist zwölf Uhr.



Es ist drei Uhr.



Es ist zehn Uhr.



Es ist zwei Uhr.



Es ist neun Uhr.




Es ist sieben Uhr.




Wie viel Uhr ist es?


Verbinde die passenden Uhren und Uhrzeiten.




Es ist halb zehn.




Es ist zwölf Uhr.




Es ist halb drei.



Es ist zwei Uhr.





Es ist Viertel nach acht.



Es ist Viertel vor neun.

Wie viel Uhr ist es?

Verbinde die passenden Uhren und Uhrzeiten.



Es ist halb zehn.



Es ist zwölf Uhr.



Es ist halb drei.



Es ist zwei Uhr.



Es ist Viertel nach acht.



Es ist Viertel vor neun.